

ŽIVOT OD JESKYNÍ DO KORUN STROMŮ



NÁRODNÍ
MUZEUM

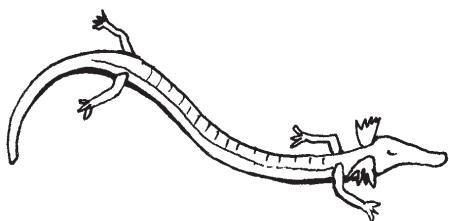
Pracovní list k lektorovanému programu

Pro žáky 6.–9. tříd základních škol

SVĚTLO A ŽIVOT

LIGHT AND LIFE

1. Prohlédni si macaráta jeskynního. Lidově se mu říká lidská ryba, ale není jedno ani druhé. Do jaké skupiny patří a proč?



Patří mezi

Jeho příbuzní jsou

Má s nimi společné

Liší se od nich

2. Prohlédni si malbu jeskynního člověka a vyber správná tvrzení:

- A) Na malbách se objevují jen vymyšlená neexistující zvířata.
- B) Na malbách jsou známá zvířata a malby hrály roli při rituálech.
- C) Malby se nacházejí hluboko v jeskyních, kde si člověk svítil ohněm.
- D) Malby se nacházejí na začátku jeskyní, kam dopadalo světlo zvenčí.
- E) Malby se nacházejí po celém světě včetně Čech a Moravy.
- F) Malby se našly jen v jeskyních ve Francii a Španělsku.

3. I příroda má svoje úklidové čety a ty se živí trusem a mršinami. Spoj těchto „šest statečných“ s potravou, kterou se živí. Jejich jména ti hodně napovědí.

MRCHOŽROUT



HROBAŘÍK



VÝKALNÍK



KOŽOJED



VÝKALNICE




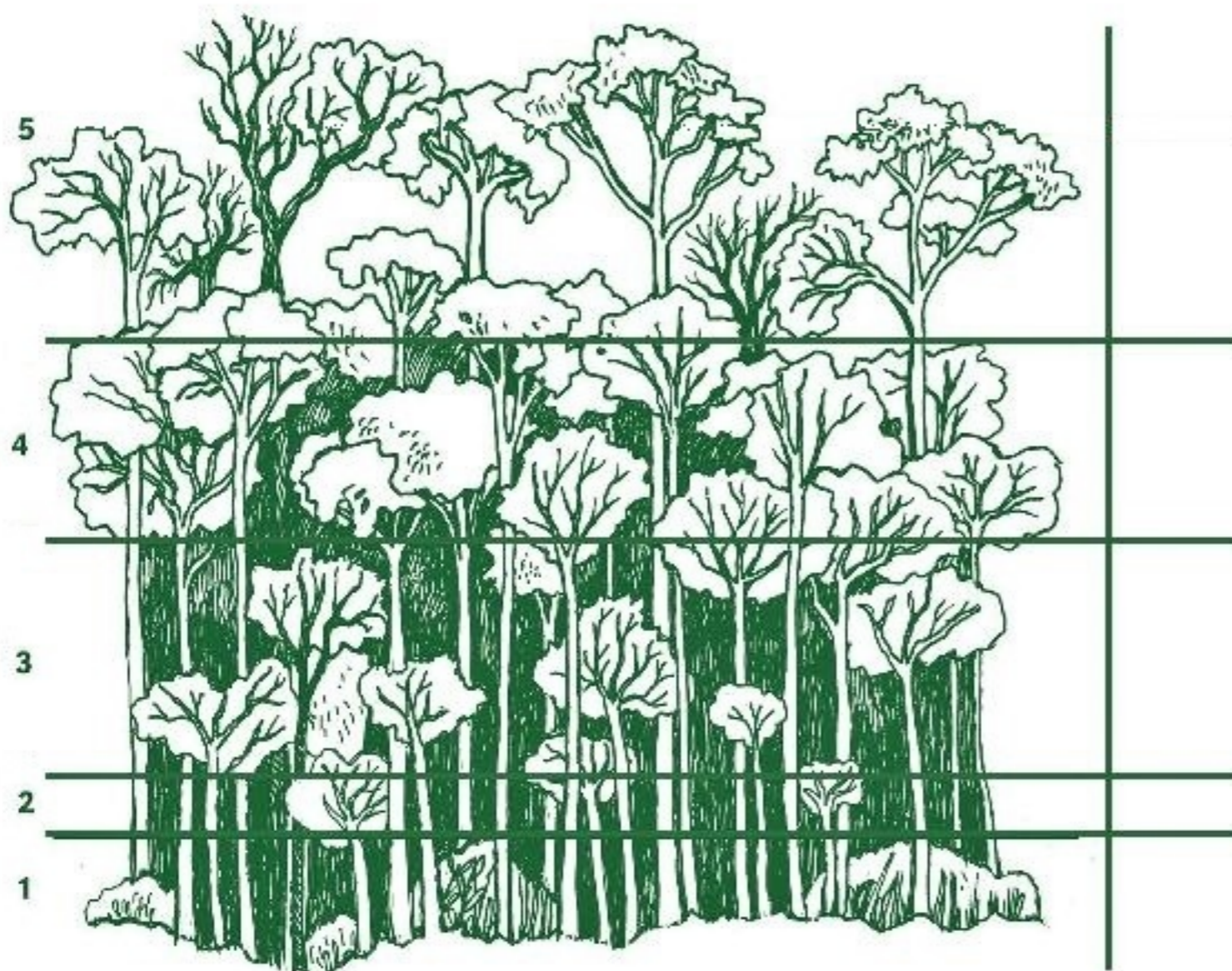
HNOJNÍK

4. Vyznač na mapě světa, kde se nacházejí travnaté oblasti, a spoj, jak se kde nazývají.



- Asie Afrika Severní Amerika Jižní Amerika
savana pampa prérie step

5. Spoj jednotlivá patra deštného pralesa s jejich názvy a doplň typického obyvatele.



- patro stromových velikánů
nižší stromové patro přízemní patro
vyšší stromové patro keřové patro